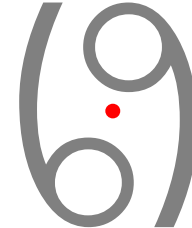






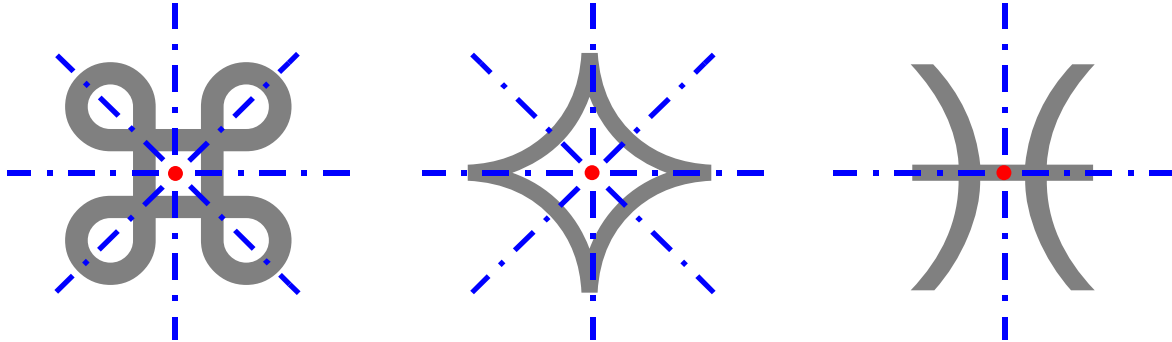
Welche Figuren sind symmetrisch?



Symmetrisch sind Figuren, die um einen Punkt ● gedreht werden können.



Welche Figuren sind symmetrisch?



Und natürlich auch Figuren, bei denen beides – **Spiegelung** und **Drehung** – möglich ist.