



Welche Namen haben die Figuren?


Hier kannst du **Rechtecke** erkennen. Wo findest du weitere?



Fenster, Türen



Seitenflächen
von Schachteln



Bücher,
Schulhefte

Rechtecke haben an allen vier Ecken rechte Winkel.




Welche Namen haben die Figuren?


Hier kannst du **Quadrate** erkennen. Wo findest du weitere?



Fliesen, Parkette



Flickenteppiche



Karogitter, Karopapier

Quadrate sind Rechtecke mit vier gleich langen Seiten.



Welche Namen haben die Figuren?

Hier kannst du **Kreise** erkennen. Wo findest du weitere?



Verkehrsschilder



Räder



Schnittflächen

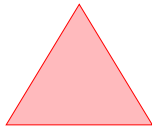
Kreise sind überall gleich rund.

Ich kann ebene Figuren unterscheiden und benennen




Welche Namen haben die Figuren?

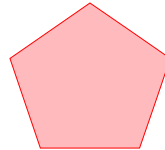
Figuren mit geraden Seiten heißen zusammengefasst **Vielecke**.



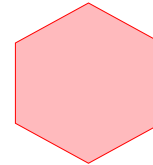
Dreieck



Viereck

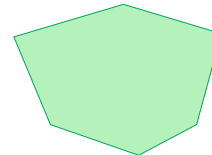
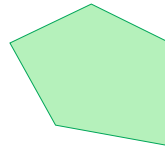
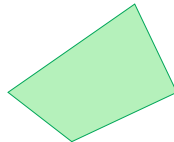
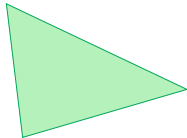


Fünfeck



Sechseck

.....eck



Ihre Namen bekommen sie nach ihrer Eckenzahl. Man unterscheidet **regelmäßige** (wie das Quadrat), solche mit speziellen Eigenschaften (wie das Rechteck) und **allgemeine** Vielecke. Wo findest du welche Vielecke?