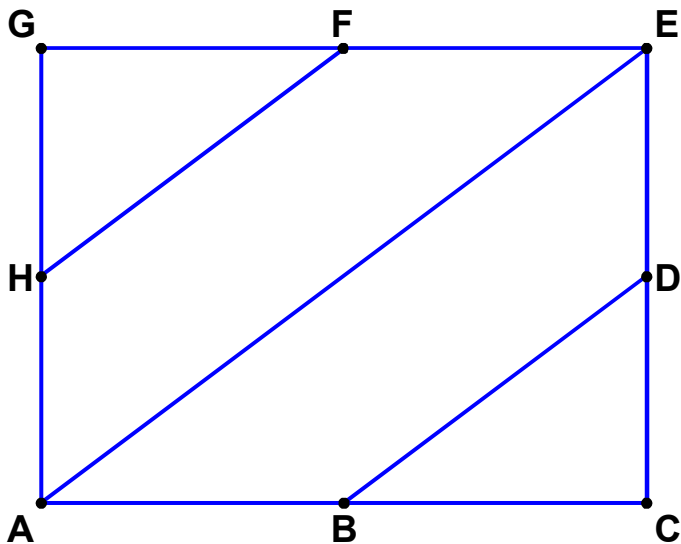


Wie lang sind die Strecken?



In der Figur ist die Strecke von A nach E 10 cm lang.

Man schreibt dafür

$$AE = 10 \text{ cm}$$

Andere Strecken sind

3, 4, 5, 6, 8 cm lang.

Welche?

Ergänze die Tabelle.

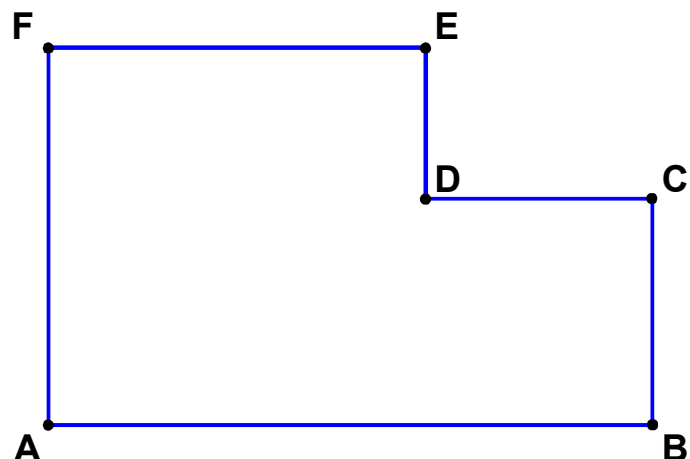
Länge	Strecken
3 cm	
4 cm	
5 cm	
6 cm	
8 cm	
10 cm	AE

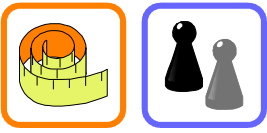
Wie lang sind die Strecken in der Figur unten rechts?

Wie kannst du deine

Messungen kontrollieren?

Strecke	Länge
AB	
BC	
CD	
DE	
EF	
FA	





Zeichne selbst eine Figur.

Bezeichne die Punkte mit Buchstaben und miss die Strecken.

Tausche deine Aufgabe mit anderen.

