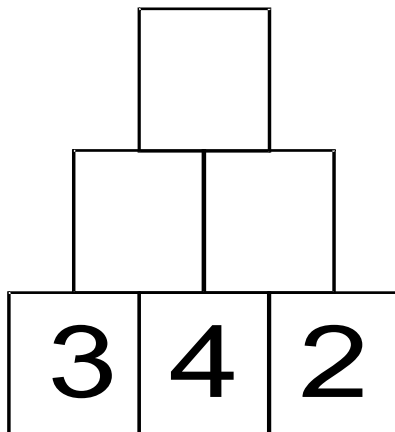
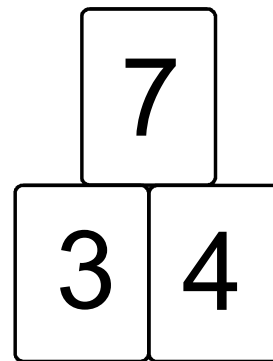


Rechenpyramiden:

Welche Steine passen?

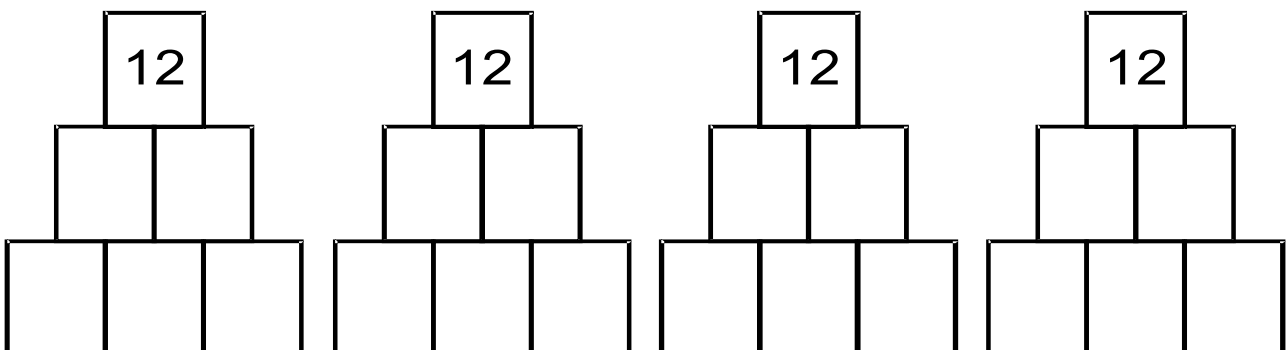
Mit Zahlenkarten kannst du Rechen-Pyramiden bauen: In der Mitte über zwei Zahlen steht immer die Summe.

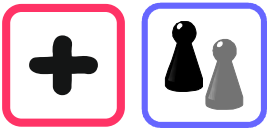


Du kannst auch höhere Pyramiden bauen. Wie heißen hier die fehlenden Zahlen?

Baue mit deinen Zahlenkarten eigene Pyramiden. Zeichne die Pyramiden ins Heft.

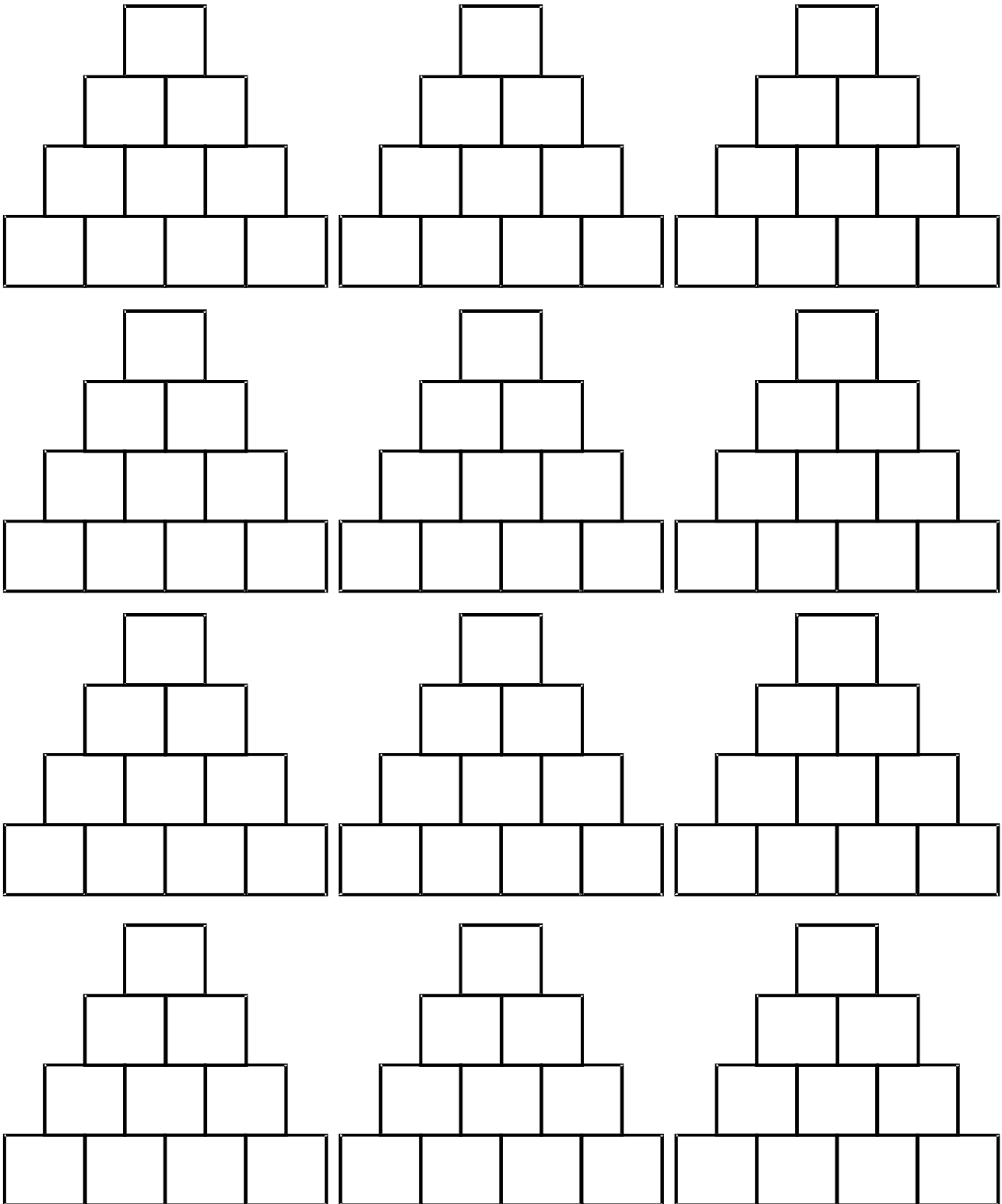
Wie kommst du zur Spitze 12? Probiere. Schreibe in dein Heft. Findest du mehr als vier Möglichkeiten?



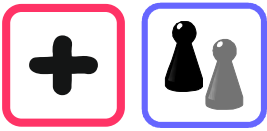


Welche Zahl ist deine Lieblingszahl?

Baue Pyramiden,
in denen deine Lieblingszahl
an verschiedenen Stellen vorkommt.

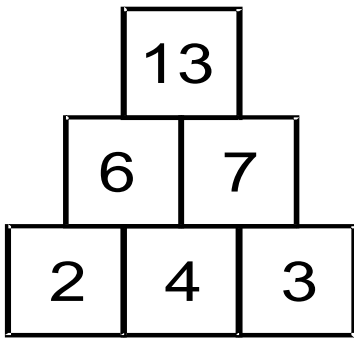


Zeichne weitere Pyramiden in dein Heft.



Pyramiden – Rätsel:

Wohin passen die Zahlen?



Roland hat

mit seinen Zahlenkarten

eine Pyramide gelegt.

Die Karten der fertigen Pyramide

hat er zusammengeschoben und sortiert:

2, 3, 4, 6, 7, 13

Welche Pyramiden hat Roland mit diesen Zahlen gelegt?

a) 2, 5, 6, 7, 11, 18

b) 3, 5, 7, 8, 12, 20

c) 2, 3, 5, 6, 9, 13

d) 1, 3, 4, 5, 6, 7, 8, 11, 12, 23

Erfinde auch solche Rätsel.

Tausche deine Rätsel mit anderen Kindern aus.

Werden in Pyramiden

Zahlen abgedeckt

ergeben sich ebenfalls Rätsel.

Erfinde auch solche Rätsel.

Gib deine Rätsel

anderen Kindern zum Lösen.

