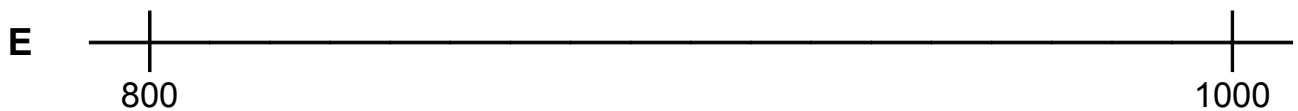
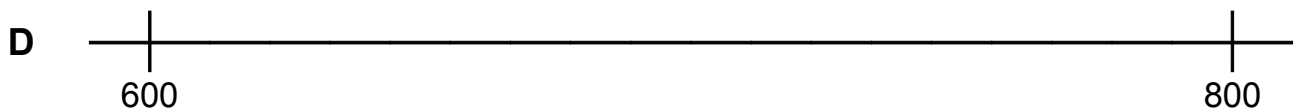
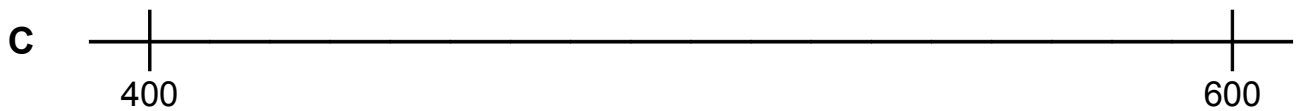
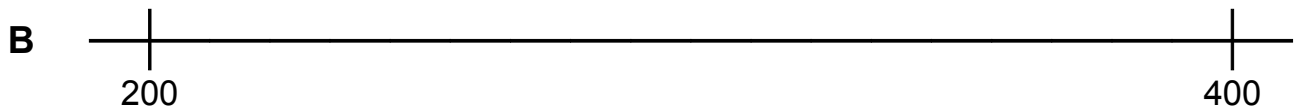
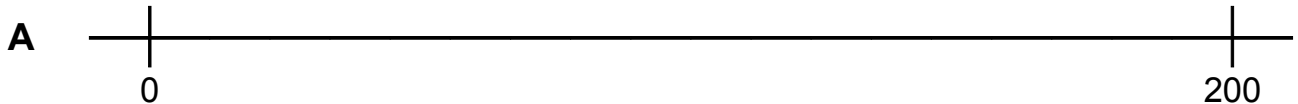


# Wohin passen die Zahlen auf dem Zahlenstrahl?

Hier sind verschiedene Ausschnitte aus einem Zahlenstrahl zu sehen.



1. Wohin passen die Zahlen?

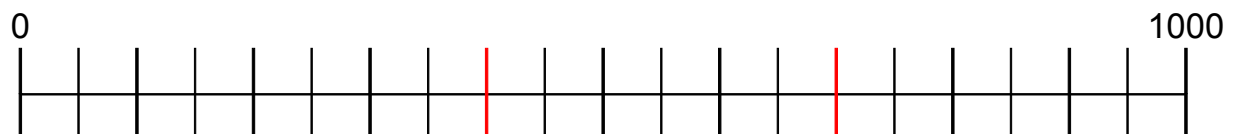
638, 740, 548, 460, 436, 890, 322, 23, 357, 165, 303, 937, 238, 45, 670,  
590, 985

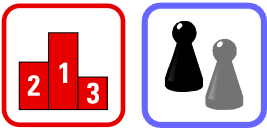
Markiere diese Stellen mit Bleistift und schreibe die Zahlen dazu.

Vergleiche deine Einträge mit anderen. Korrigiere sie, wo nötig.

2. Welche Zahlen sind auf diesem Strahl markiert?

Schreibe die Zahlen zu den Strichen.





- Denke dir eine Kante deines Tisches als Zahlenstrahl von 0 bis 1000.  
Wo liegen dann die Zahlen 500, 600, 700, 400, 950?
- Überlege, wo andere Zahlen auf dem Strahl liegen könnten.
- Mache dasselbe mit anderen Strecken, die du siehst.  
(Länge, Breite deines Tisches, des Zimmers, Breite eines Fensters, ...)

- Welche Zahlenstrahlen kannst du gut einteilen, bei welchen ist das schwieriger?
- Tausche deine Vorstellungen mit anderen aus.



- Nimm einen breiten Papierstreifen. Zeichne darauf einen Zahlenstrahl von 0 bis 1000. Würfle Zahlen und trage sie auf dem Zahlenstrahl ein: • mit einem Wurf Hunderterzahlen • mit zwei Würfeln Hunderter und Zehner • mit drei Würfeln Hunderter, Zehner und Einer. Vergleiche deine Einträge mit anderen.
- 🕒 Mit vier Würfeln kannst du auch Tausenderzahlen würfeln. Zeichne einen Zahlenstrahl und trage sie ein.