




Wie sehen deine Rechenwege aus?

Verschiedene Kinder haben $530 - 285$ gerechnet und ihre Rechenwege auf einem Rechenstrich aufgezeichnet.


Marias Schritte auf dem Rechenstrich:



Marias Rechnungen

$530 - 285 =$
$530 - 200 = 330$
$330 - 80 = 250$
$250 - 5 = 245$


Bennos Schritte:



Bennos Rechnungen

$530 - 285 =$

Rosalinas Schritte:



Rosalinas Rechnungen

$530 - 285 =$

- Wie hat Benno, wie hat Rosalina gerechnet?
- Wie rechnest du $530 - 285$? Rechne und zeichne deinen Weg auf.
- Rechne und zeichne deine Rechenwege auf:
 $374 + 468$ $356 + 987$ $520 - 355$ $959 - 495$
- Vergleiche deine Rechenwege mit anderen.