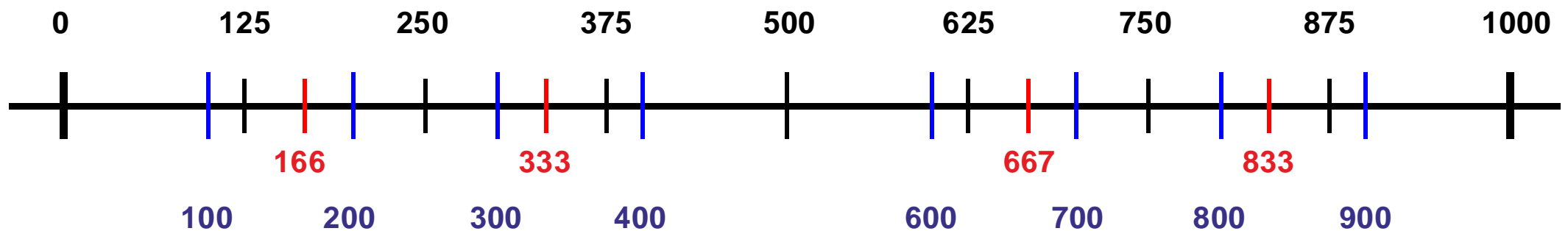
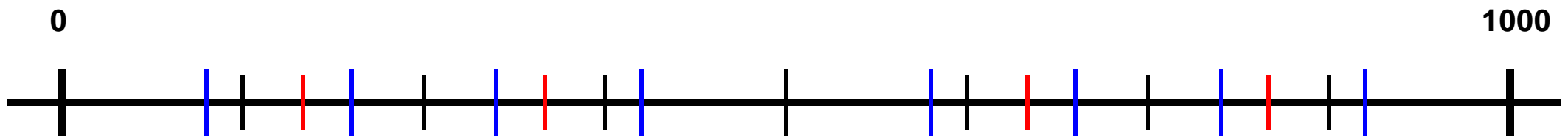


Die Striche auf dem Zahlenstrahl entsprechen Bruchteilen mit Nennern 2, 3, 4, 5, 6, 8, 10 der ganzen Strecke. Welche Bruchteile sind es?

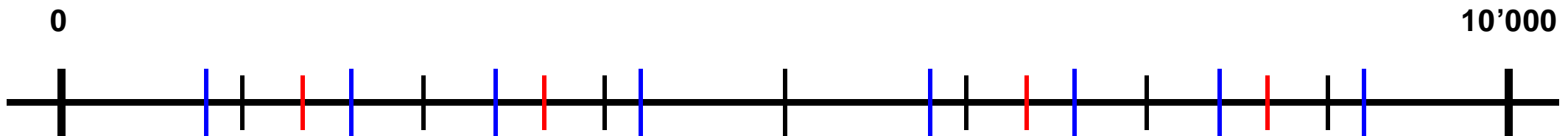
Übung: Decke die unteren oder die oberen Zahlen mit einem leeren Blatt ab. Schreibe jetzt auf dieses Blatt zu den Teilstrichen die abgedeckten Zahlen und welche Bruchteile der ganzen Strecke sie bedeuten.



Die Striche auf dem Zahlenstrahl entsprechen Bruchteilen mit Nennern 2, 3, 4, 5, 6, 8, 10 der ganzen Strecke. Welche Bruchteile sind es?



Die Striche auf dem Zahlenstrahl entsprechen Bruchteilen mit Nennern 2, 3, 4, 5, 6, 8, 10 der ganzen Strecke. Welche Bruchteile sind es?



Die Striche auf dem Zahlenstrahl entsprechen Bruchteilen mit Nennern 2, 3, 4, 5, 6, 8, 10 der ganzen Strecke. Welche Bruchteile sind es?

