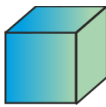
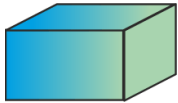









# Wo findest du diese Körper?

Viele Gegenstände haben eine Form, die mehr oder weniger einem geometrischen Körper entsprechen. In der Tabelle sind die gebräuchlichsten aufgelistet. Kannst die Beschreibungen noch ergänzen, verdeutlichen?

Körper	Name	Beschreibung
	Würfel	Alle 6 Seitenflächen sind Quadrate.
	Quader	Alle 6 Seitenflächen sind Rechtecke.
	Prisma	Grund- und Deckfläche sind gleiche Vielecke, die Seitenflächen Rechtecke (Parallelelogramme).
	Zylinder	Grund- und Deckfläche sind gleiche Kreise.
	Pyramide	Grundfläche ist ein Vieleck, die Seitenflächen sind Dreiecke mit gemeinsamer Spitze.
	Kegel	Grundfläche ist ein Kreis, die Mantelfläche läuft in eine Spitze.
	Kugel	Der Umriss ist aus jeder Richtung ein Kreis.

## Auftrag

- Suche mit anderen zusammen nach Gegenständen, deren Form einem dieser geometrischen Körper gleicht.
- Beschriftet sie und macht eine kleine Ausstellung.