

Wo liegen die Zahlen

auf dem Zahlenstrahl?

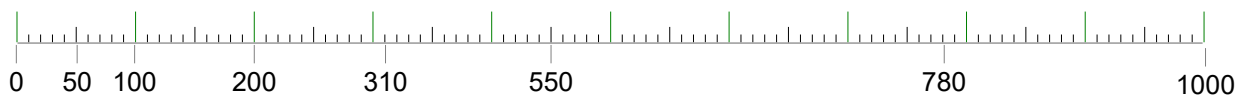


Auf dem Zahlenstrahl sind die Zahlen der Größe nach geordnet.

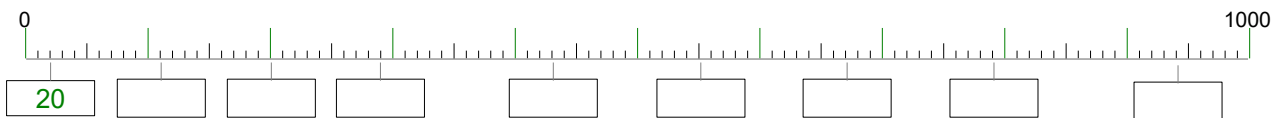
Sie werden nach rechts immer grösser.

Dieser Zahlenstrahl zeigt den Bereich von 0 bis 1000.

Er ist unterteilt in grosse 100er Schritte, mittlere 50er- und kleine 10er Schritte.



1. Trage die Zahlen in die Kästchen ein.



2. Dieser Zahlenstrahl zeigt den Bereich von 0 bis 1000.


An welcher Stelle liegen die Zahlen 500, 400, 100, 50, 200, 750 und 900?
Notiere die Zahlen mit Bleistift.



3. Hier sind drei weitere Zahlenstrahlen mit verschiedenen Bereichen.

Wo liegen diese Zahlen: 3500, 2400, 4100, 3300, 2200, 3750, 2500, 4600, 2900, 4250, 2100, 3900, 4800. Markiere die Stelle mit einem farbigen Strich und notiere die Zahl dazu.





Wo liegen die Zahlen

Lösungen

auf dem Zahlenstrahl?

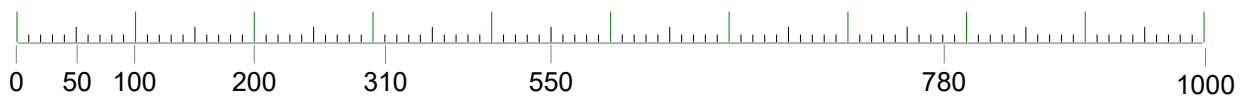


Auf dem Zahlenstrahl sind die Zahlen der Größe nach geordnet.

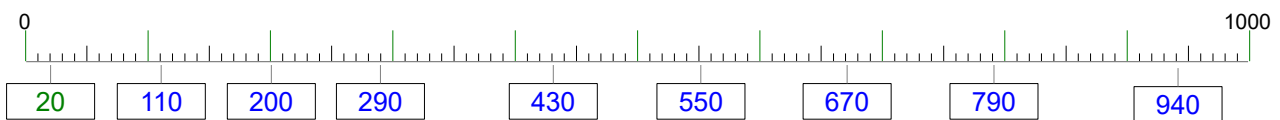
Sie werden nach rechts immer grösser.

Dieser Zahlenstrahl zeigt den Bereich von 0 bis 1000.

Er ist unterteilt in grosse 100er Schritte, mittlere 50er- und kleine 10er Schritte.



1. Trage die Zahlen in die Kästchen ein.



2. Dieser Zahlenstrahl zeigt den Bereich von 0 bis 1000.

An welcher Stelle liegen die Zahlen 500, 400, 100, 50, 200, 750 und 900?
Notiere die Zahlen mit Bleistift.



3. Hier sind drei weitere Zahlenstrahlen mit verschiedenen Bereichen.

Wo liegen diese Zahlen: 3500, 2400, 4100, 3300, 2200, 3750, 2500, 4600, 2900, 4250, 2100, 3900, 4800.

Markiere die Stelle mit einem farbigen Strich und notiere die Zahl dazu.

