
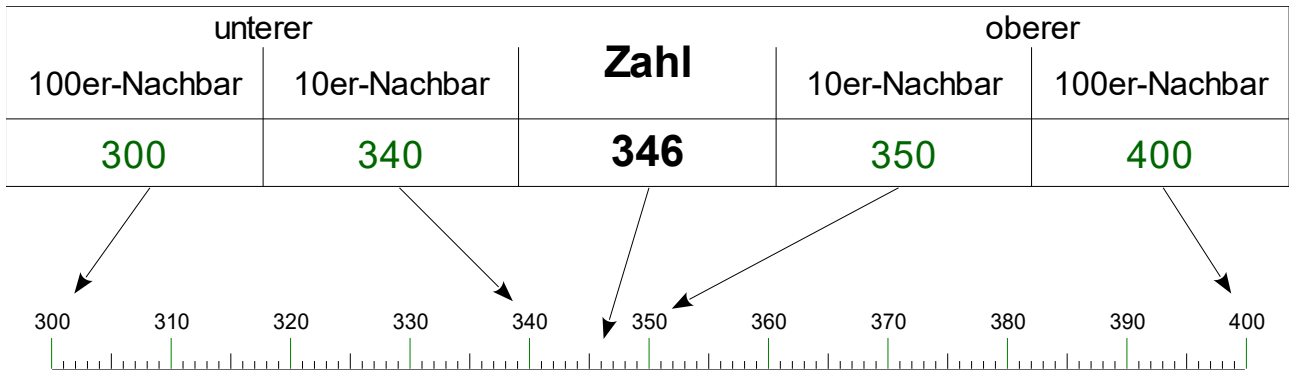


Wie heißen die

Zehner- und Hunderternachbarn?

 Auf dem Zahlenstrahl sind die unteren und oberen Zehner- und Hunderter-Nachbarn von 346 mit den Pfeilen dargestellt.



 1. Ergänze die Tabellen mit den 10er und 100er Nachbarn.


unterer		Zahl	oberer	
100er-Nachbar	10er-Nachbar		10er-Nachbar	100er-Nachbar
2300	2320	2326	2330	2400
		2456		
		2586		
		2716		

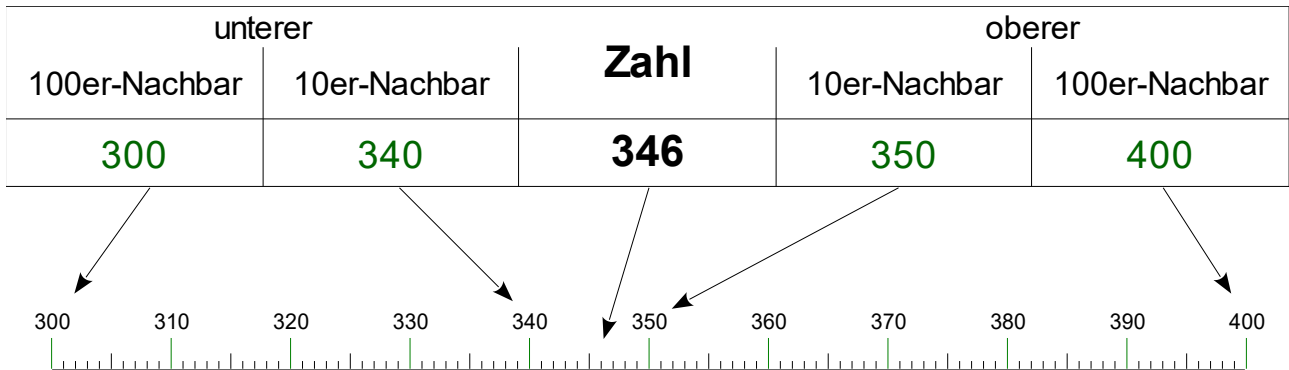
unterer		Zahl	oberer	
100er-Nachbar	10er-Nachbar		10er-Nachbar	100er-Nachbar
		4326		
		6463		
		3600		
		8737		

Wie heißen die

Lösungen

Zehner- und Hunderternachbarn?

 Auf dem Zahlenstrahl sind die unteren und oberen Zehner- und Hunderter-Nachbarn von 346 mit den Pfeilen dargestellt.



 1. Ergänze die Tabellen mit den 10er und 100er Nachbarn.

unterer		Zahl	oberer	
100er-Nachbar	10er-Nachbar		10er-Nachbar	100er-Nachbar
2300	2320	2326	2330	2400
2400	2450	2456	2460	2500
2500	2580	2586	2590	2600
2700	2710	2716	2720	2800

unterer		Zahl	oberer	
100er-Nachbar	10er-Nachbar		10er-Nachbar	100er-Nachbar
4300	4320	4326	4330	4400
6400	6460	6463	6470	6500
3600	3600	3600	3600	3600
8700	8730	8737	8740	8800