
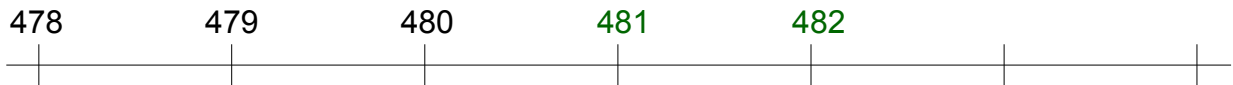


Welche Zahlen gehören zu den Markierungen?


 Zähle in Einer- und in Zehnerschritten.

 Vorwärts zählen:



Rückwärts zählen:





Welche Zahlen gehören

Lösungen



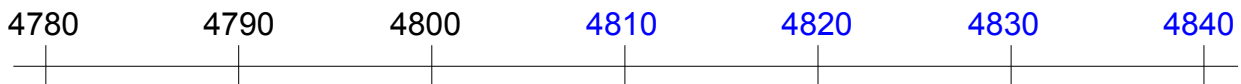
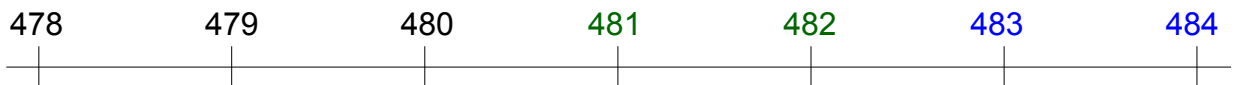
zu den Markierungen?



Zähle in Einer- und in Zehnerschritten.



Vorwärts zählen:



Rückwärts zählen:

