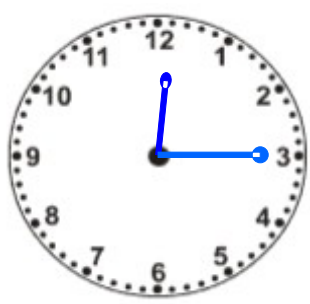


Wie sehen Brüche in verschiedenen Modellen aus?

 Auf dieser Seite siehst du den Viertel auf verschiedene Arten dargestellt:

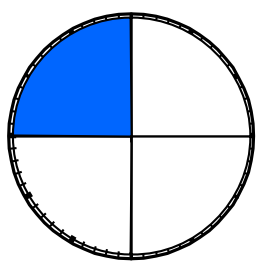
- als Teil eines Kreises, eines Rechtecks und eines Stabes,
- als Viertel von Hundert auf der Hundertertafel und
- als Prozentwert mit dem Prozentzeichen.




Ein Viertel
 $\frac{1}{4}$
der vierte Teil



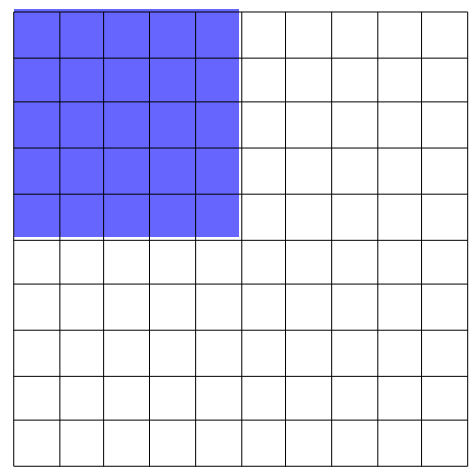
a) Kreismodell



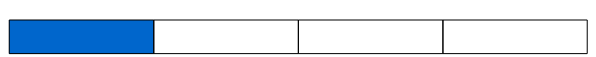
b) Rechteckmodell



c) auf dem Hunderterfeld




d) Stabmodell



$$\frac{1}{4} \text{ von } 100 = 25$$

$$\frac{1}{4} = 25 \% \text{ (Prozent)}$$

 1. Stelle die Brüche $\frac{1}{2}$ und $\frac{3}{4}$ auf der Vorlage mit den verschiedenen Modellen dar.