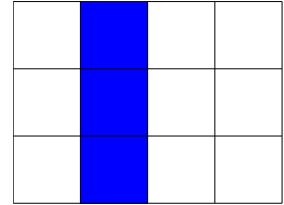


Wie groß sind die

Bruchteile der Figuren?



$\frac{1}{4}$ dieses Rechtecks ist blau gefärbt.

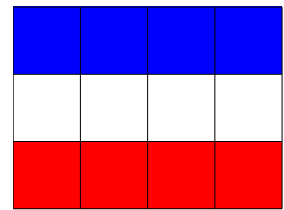


1. Dieses Rechteck enthält 12 Felder.



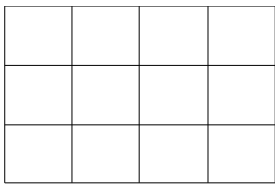
Das oberste Drittel der Felder ist blau. Male das mittlere Drittel weiß, und das untere rot an.

Das sind die Farben von Frankreich.

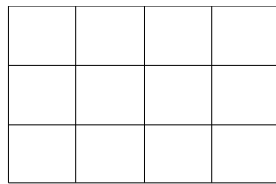


2. Hier hat es vier weitere Rechtecke.

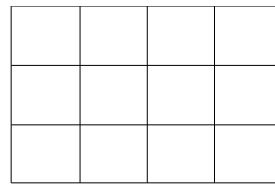
Male den Bruchteil der Figur an, der darunter steht.



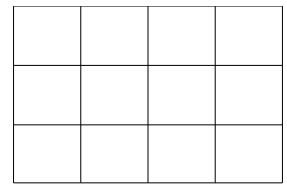
$\frac{3}{4}$



$\frac{1}{3}$



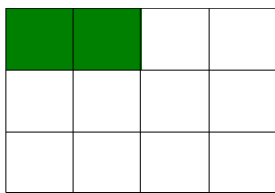
$\frac{2}{3}$




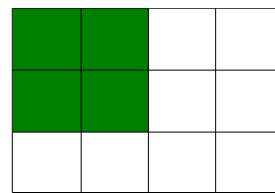
$\frac{1}{6}$


3. Welche Bruchteile sind in diesen Rechtecken grün gefärbt?

Notiere unter jedem Rechteck den Bruch.

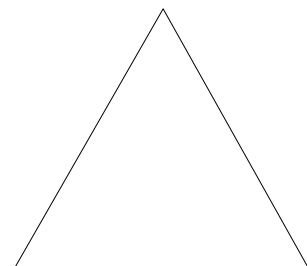









4. Male bei jeder Figur einen Drittel aus.




Wie groß sind die

Bruchteile der Figuren?

Lösungen



$\frac{1}{4}$ dieses Rechtecks ist blau gefärbt.




1. Dieses Rechteck enthält 12 Felder.



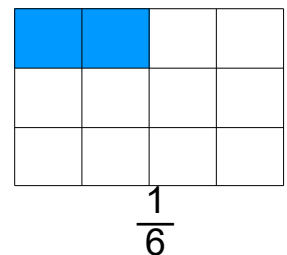
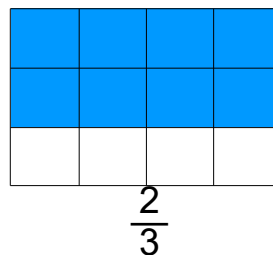
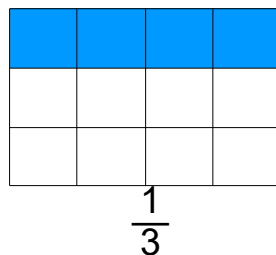
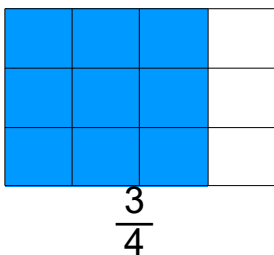
Das oberste Drittel der Felder ist blau. Male das mittlere Drittel weiß, und das untere rot an.

Das sind die Farben von Frankreich.



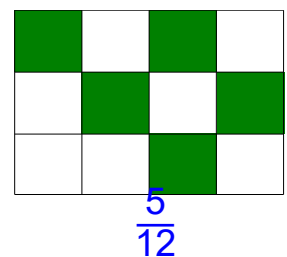
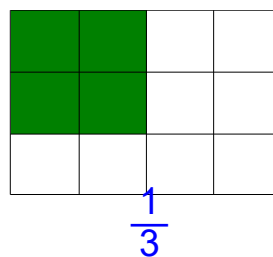
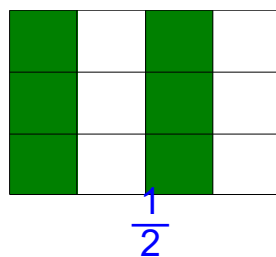
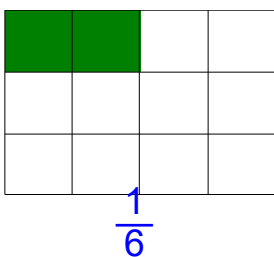
2. Hier hat es vier weitere Rechtecke.

Male den Bruchteil der Figur an, der darunter steht. **Lösungsbeispiele:**



3. Welche Bruchteile sind in diesen Rechtecken grün gefärbt?

Notiere unter jedem Rechteck den Bruch. **Lösungsbeispiele:**



4. Male bei jeder Figur einen Drittel aus.

Lösungsbeispiele:

