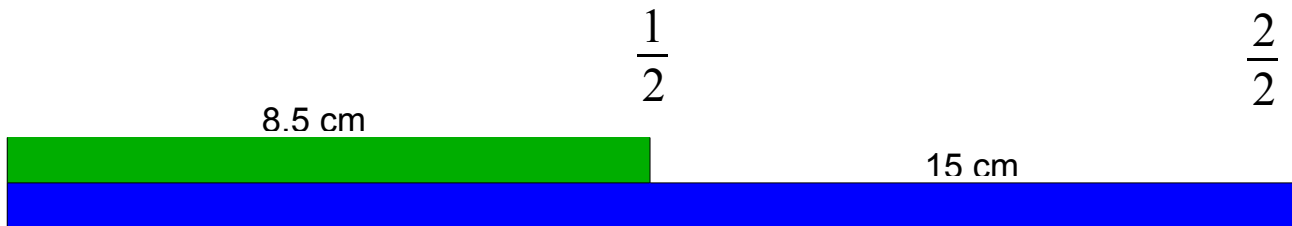


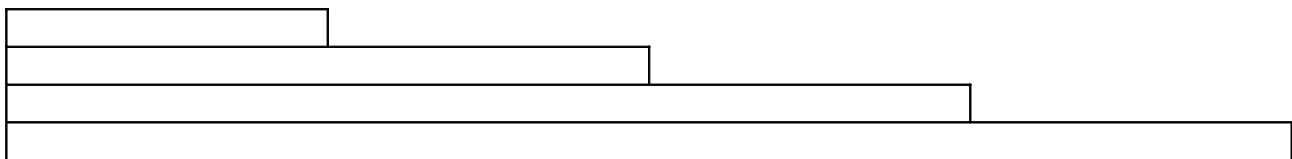



# Welchen Teil der Strecke bilden die Abschnitte?

Miss die ganze Strecke und die einzelnen Abschnitte und notiere die Masse.



- Male jeden Streckenabschnitt vom linken Rand her mit einer anderen Farben aus.
- Welchen Bruchteil der ganzen Strecke stellt ein Abschnitt dar? Notiere den Bruch in der Farbe des Abschnitts.
- Miss die ganze Strecke und die einzelnen Abschnitte und notiere die Masse.



## Aufgabe:

Drehe das Heft und zeichne diese Aufträge im Querformat.

1. Zeichne im Heft mit dem Lineal eine Strecke von 24 cm Länge.
2. Teile diese Strecke in 6 gleich lange Abschnitte ein.
3. Markiere die Abschnitte vom linken Rand her mit Farben und schreibe die Bruchteile und die Masse der Abschnitte an.
4. Zeichne eine zweite Strecke von 24 cm Länge und teile sie in 8 Abschnitte ein.